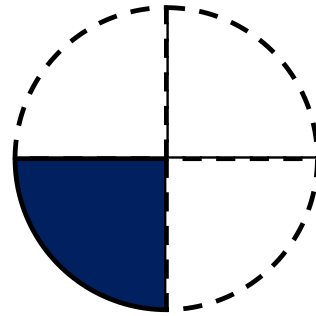


認識分數

1. 媽媽把一個藍莓蛋糕等分成 4 份。



家琪吃了 1 份，她吃的藍莓蛋糕佔整個藍莓蛋糕的四分之一。

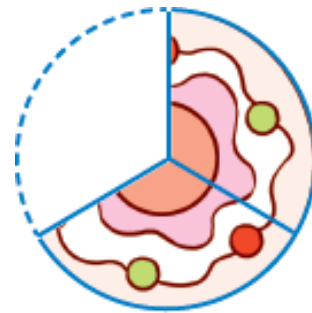
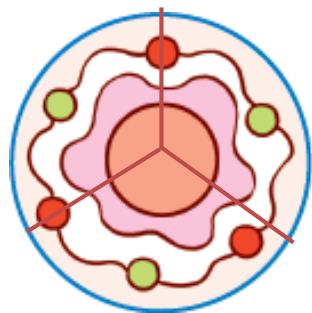
寫作： $\frac{1}{4}$ 表示佔了其中 1 份
表示把整體等分成 4 份

讀作：四分之一



認識分數

2. 媽媽把一個雜果蛋糕等分成 3 份。



文軒吃了 2 份，他吃的雜果蛋糕佔整個雜果蛋糕的三分之二。

寫作： $\frac{2}{3}$ 表示佔了其中 2 份

表示把整體等分成 3 份

讀作：三分之二



你也來試一試！



關閉

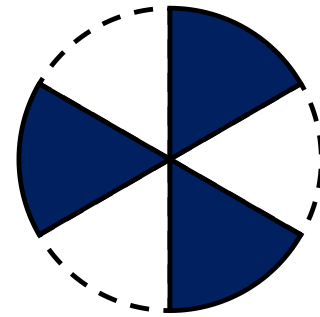


認識分數

(a) 媽媽把一個藍莓蛋糕等分成 6 份，還有藍莓蛋糕 3 份，佔整個藍莓蛋糕的六分之_____。

寫作： $\frac{\square}{\square}$

讀作：_____



答案

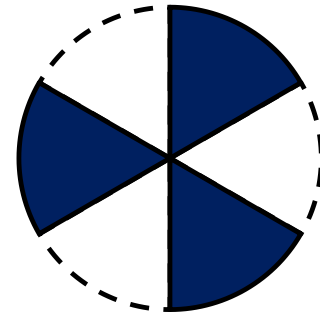
關閉



認識分數

(a) 媽媽把一個藍莓蛋糕等分成 6 份，還有藍莓蛋糕 3 份，佔整個藍莓蛋糕的六分之三。

寫作： $\frac{\boxed{3}}{\boxed{6}}$



讀作：六分之三

下一題

關閉

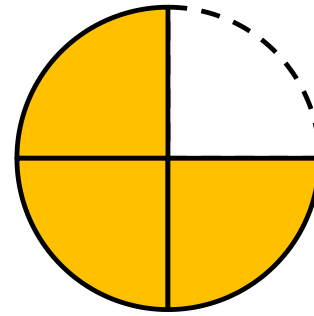


認識分數

(b) 媽媽把一個芝士蛋糕等分成 4 份，還有芝士蛋糕 3 份，佔整個芝士蛋糕的四分之_____。

寫作： $\frac{\square}{\square}$

讀作：_____



答案

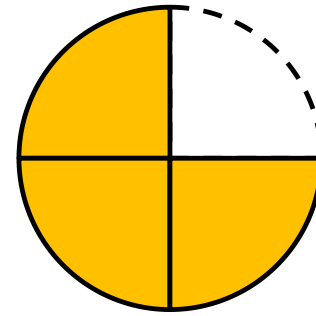
關閉



認識分數

(b) 媽媽把一個芝士蛋糕等分成 4 份，還有芝士蛋糕 3 份，佔整個芝士蛋糕的四分之 三 。

寫作： $\frac{\boxed{3}}{\boxed{4}}$



讀作： 四分之三

完

關閉

