

maths - 4 上 A 單元 2 第 6 課_跟進練習 C

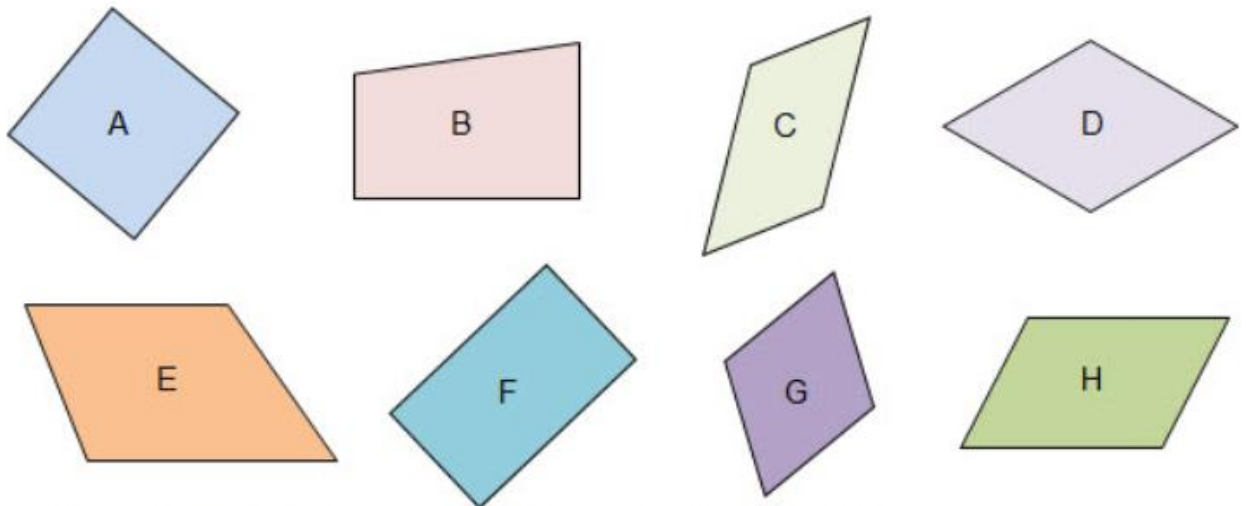
學生可在數學筆記簿列式計算，待日後課堂上與老師共同訂正。

功課名稱：**maths - 4上A單元2第6課_跟進練習C**

最終總分：6

題目：

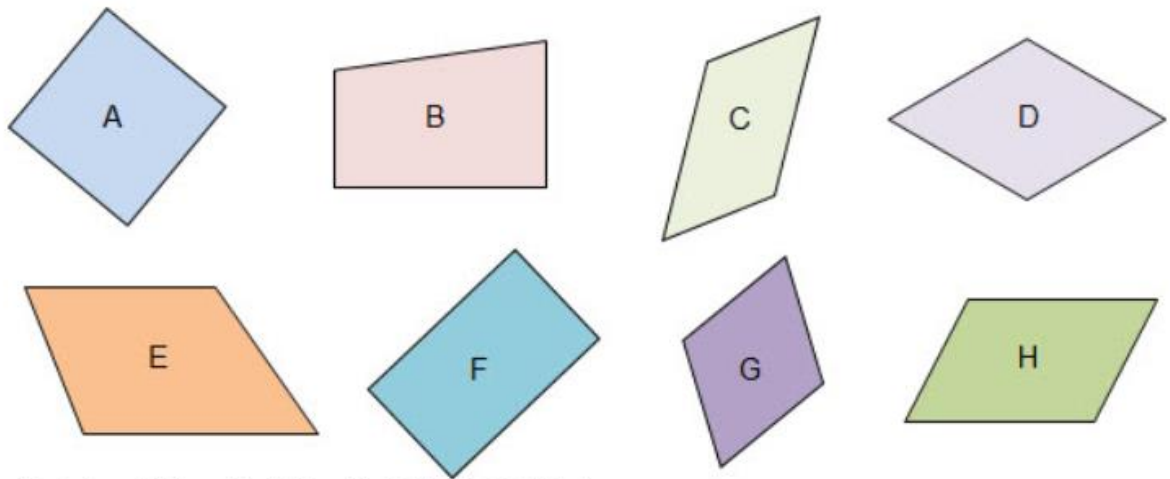
1



上圖中，哪些四邊形的兩組對邊分別相等，且兩組對角分別相等？

- A, C, D, G 和 H
- A, B, C, E, G 和 H
- A, C, D, F, G 和 H
- A, C, E, F, G 和 H

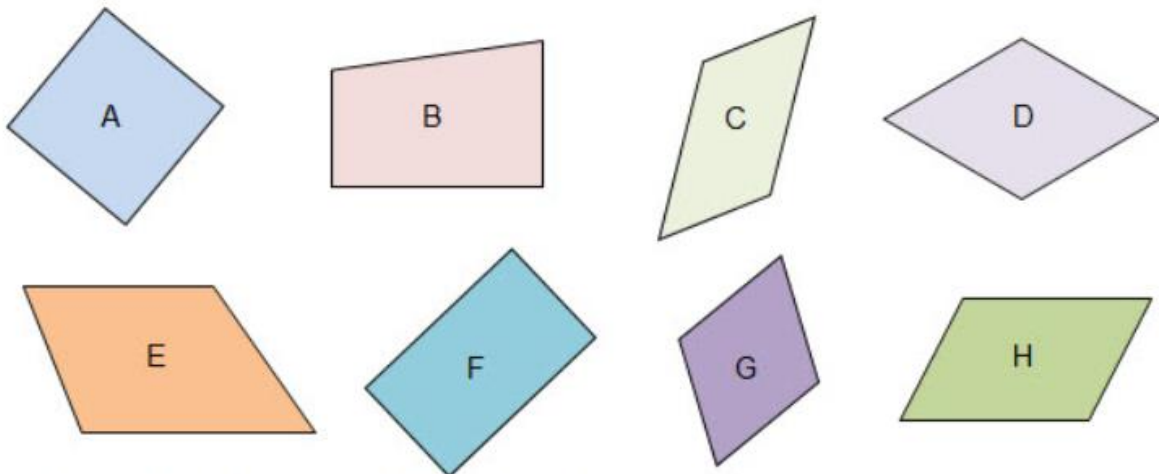
2



上圖中，哪些四邊形的四條邊的長度相等？

- A 和 G
- A, D 和 G
- A, D, E 和 G
- A, D, G 和 H

3



上圖中，哪個/邊形只有一組對邊互相平行？

- 只有 B
- 只有 C
- C 和 E
- B 和 E

4

以下那些是平行四邊形和長方形的共同特性。（答案可多於一個）

- 兩組對邊分別互相平行。
- 兩組對邊的長度分別相等。
- 兩組對角分別相等。
- 有四個直角。

5

哪兩種四邊形四條邊的長度相等？

- 正方形和長方形
- 平行四邊形和長方形
- 正方形和菱形
- 菱形和梯形

6

以下哪項描述不一定正確？

- 正方形和長方形有四個直角。
- 平行四邊形和菱形的兩組對角分別相等。
- 長方形和菱形的兩組對邊分別互相平行。
- 梯形和正方形都有直角。