

## maths – 3 上 B 單元 7 第 16 課功課 1\_平行線、垂直線和平行四邊形

功課名稱： **maths - 3上B單元7第16課功課1\_平行線、垂直線和平行四邊形** 創建者： **Subject webs**

最終總分： 4

題目： 1/4

1



上圖中的兩條直線是平行線嗎?

- 是  
 不是


正確答案：是

功課名稱： **maths - 3上B單元7第16課功課1\_平行線、垂直線和平行四邊形** 創建者： **Subject webs**

最終總分： 4

題目： 2/4

2



上圖中的兩條直線是平行線嗎?

- 是  
 不是

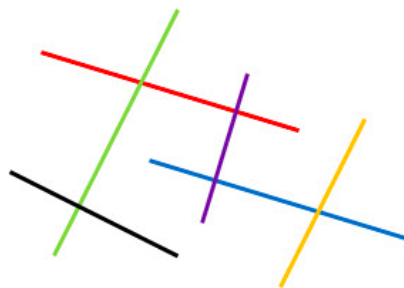
正確答案：不是

功課名稱： **maths - 3上B單元7第16課功課1\_平行線、垂直線和平行四邊形** 創建者： **Subject webs**

最終總分： 4

題目： 3/4

3



在上圖中，哪條直線與綠線組成平行線？

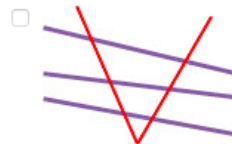
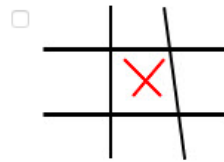
- 紅線  
 橙線  
 紫線  
 黑線

正確答案：橙線

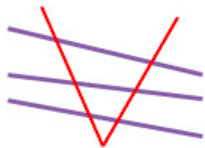

最終總分： 4

題目： 4/4

**4** 在以下各組圖中，哪些有平行線？(答案可選多於1個。)



正確答案：



## maths – 3 上 B 單元 7 第 17 課功課 1\_平行線、垂直線和平行四邊形

功課名稱： **maths - 3上B單元7第17課功課1\_平行線、垂直線和平行四邊形** 創建者： **Subject web**

最終總分： 4

題目： 1/4

1



上圖中的兩條直線是垂直線嗎?

- 是  
 不是

正確答案：不是

功課名稱： **maths - 3上B單元7第17課功課1\_平行線、垂直線和平行四邊形** 創建者： **Subject web**

最終總分： 4

題目： 2/4

2



上圖中的兩條直線是垂直線嗎?

- 是  
 不是

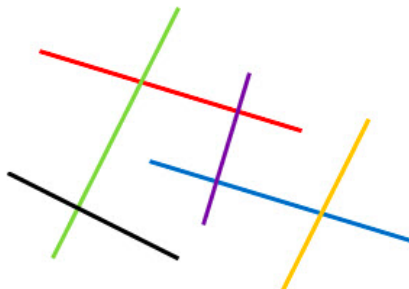
正確答案：是

功課名稱： **maths - 3上B單元7第17課功課1\_平行線、垂直線和平行四邊形** 創建者： **Subject web**

最終總分： 4

題目： 3/4

3



在上圖中，哪條直線與紅線組成垂直線？

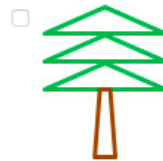
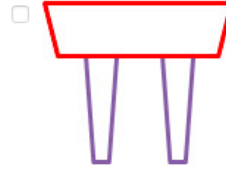
- 綠線  
 橙線  
 紫線  
 黑線

正確答案：紫線

最終總分： 4

題目： 4/4

4 在以下各組圖中，哪些有垂直線？(答案可選多於1個。)



正確答案：



## maths – 3 上 B 單元 7 第 18 課功課 1\_平行線、垂直線和平行四邊形

功課名稱： **maths - 3上B單元7第18課功課1\_平行線、垂直線和平行四邊形** 創建者： **Subject webs**

最終總分： 4

題目： 1/4

1



上圖是平行四邊形嗎?

- 是  
 不是

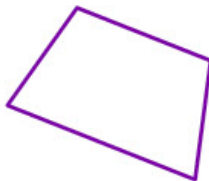
正確答案：是

功課名稱： **maths - 3上B單元7第18課功課1\_平行線、垂直線和平行四邊形** 創建者： **Subject webs**

最終總分： 4

題目： 2/4

2



上圖是平行四邊形嗎?

- 是  
 不是

正確答案：不是

功課名稱： **maths - 3上B單元7第18課功課1\_平行線、垂直線和平行四邊形** 創建者： **Subject webs**

最終總分： 4

題目： 3/4

3

平行四邊形有兩組對邊，每組對邊的長度( )，每組對邊( )。


- 相等；互相垂直  
 不相等；互相垂直  
 相等；互相平行  
 不相等；互相平行

正確答案：相等；互相平行

最終總分： 4

題目： 4/4

4 以下哪些是平行四邊形？(答案可選多於1個。)



正確答案：

