

maths – 3 上 B 單元 6 第 15 課 功課 4_秒

功課名稱： **maths - 3上B單元6第15課功課4_秒** 創建者： **Subject website**

最終總分： 4

題目： 1/4

1

活動開始

活動結束



活動用了 分鐘 秒。

正確答案：

28

10

功課名稱： **maths - 3上B單元6第15課功課4_秒** 創建者： **Subject website**


最終總分： 4

題目： 2/4

2

活動開始

活動結束



活動用了 分鐘 秒。

正確答案：

15

35

功課名稱： **maths - 3上B單元6第15課功課4_秒** 創建者： **Subject website**


最終總分： 4

題目： 3/4

3

活動開始

活動結束



活動用了 分鐘 秒。

正確答案：

16

6

功課名稱： **maths - 3上B單元6第15課功課4_秒** 創建者： **Subject website**

最終總分： 4

題目： 4/4

4

活動開始

活動結束



活動用了 分鐘 秒。

正確答案：

11

19

maths – 3 上 B 單元 6 第 15 課功課 5_秒

功課名稱： **maths - 3上B單元6第15課功課5_秒** 創建者： **Subject website**

最終總分： 4

題目： 1/4

1



志頌乘火車從甲地往乙地，上面的數字鐘顯示火車從甲地出發的時間。

火車全程用了 1 小時 24 分鐘，火車在上午 時 分 秒到達乙地。

正確答案：

10

56

5

功課名稱： **maths - 3上B單元6第15課功課5_秒** 創建者： **Subject website**

最終總分： 4

題目： 2/4

2



家傑參加賽跑比賽，上面的鐘面顯示他的出發時間。

家傑用了 35 分鐘 30 秒完成全程，他在 時 分 秒到達終點。

正確答案：

8

50

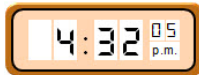
30

功課名稱： **maths - 3上B單元6第15課功課5_秒** 創建者： **Subject website**

最終總分： 4

題目： 3/4

3



上面的數字鐘顯示姜荳演奏小提琴的結束時間。

姜荳演奏小提琴用了 8 分鐘 47 秒，她演奏小提琴的開始時間是下午 時 分 秒。

正確答案：

4

23

18

功課名稱： **maths - 3上B單元6第15課功課5_秒** 創建者： **Subject website**

最終總分： 4

題目： 4/4

4



上面的鐘面顯示球賽的結束時間。

球賽用了 1 小時 42 分鐘，球賽的開始時間是 時 分 秒。

正確答案：

3

23

0