

爸爸、媽媽和詠欣乘搭港鐵到祖母家。他們以八達通卡付款，共需付車費幾元幾角？

八達通卡車費表

起點站 \ 終點站	美孚
油麻地	小童：\$ 2.90 成人：\$ 5.50

5 元 5 角 × 2

+ 2 元 9 角

爸爸和媽媽的車費

詠欣的車費

爸爸、媽媽和詠欣乘搭港鐵到祖母家。他們以八達通卡付款，共需付車費幾元幾角？

起點站 \ 終點站	美孚
油麻地	小童：\$ 2.90 成人：\$ 5.50

		元	角
		5	5
×			2
			1
	1	1	0
		元	角
		1	1
		2	9
+			
	1	3	9

$$5 \text{ 元 } 5 \text{ 角} \times 2 + 2 \text{ 元 } 9 \text{ 角}$$

$$= 11 \text{ 元 } + 2 \text{ 元 } 9 \text{ 角}$$

$$= 13 \text{ 元 } 9 \text{ 角}$$



共需付車費 13 元 9 角。

你也來試一試！



關閉



買  4 件和  1 件，共需付幾元幾角？



$$\square \text{元} \square \text{角} \times \square + \square \text{元} \square \text{角}$$

$$= \square \text{元} \square \text{角} \bigcirc \square \text{元} \square \text{角}$$



$$= \square \text{元} \square \text{角}$$

共需付 \square 元 \square 角。

答案

關閉



買  4 件和  1 件，共需付幾元幾角？



$$\boxed{6} \text{ 元 } \boxed{5} \text{ 角 } \times \boxed{4} + \boxed{14} \text{ 元 } \boxed{8} \text{ 角}$$

$$= \boxed{26} \text{ 元 } \boxed{0} \text{ 角 } \textcircled{+} \boxed{14} \text{ 元 } \boxed{8} \text{ 角}$$

$$= \boxed{40} \text{ 元 } \boxed{8} \text{ 角}$$

共需付 $\boxed{40}$ 元 $\boxed{8}$ 角。

完

關閉

