

乘加混合計算

姓名：_____

班別：_____ ()

日期：_____

總分：_____

計算以下各題。

① $95 + 63 \times 2 = \underline{221}$ ② $4 \times (64 + 75) = \underline{556}$

③ $5 \times (46 + 227) = \underline{1365}$ ④ $7 \times 99 + 385 = \underline{1078}$

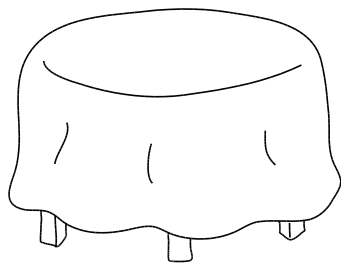
⑤ $(158 + 442) \times 3 = \underline{1800}$ ⑥ $(206 + 133) \times 6 = \underline{2034}$

把答案填在橫線上。

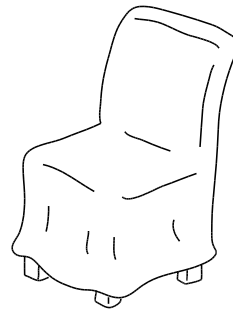
~~⑦~~ 哥哥的錢箱內有五元硬幣 22 個和一些紙幣，而紙幣的總幣值是 320 元。哥哥的錢箱內共有 430 元。 $5 \times 22 + 320 = 430$

⑧ 一箱蘋果有 54 個，比一箱奇異果少 18 個。超級市場今天購入奇異果 4 箱，即購入奇異果 288 個。 $(54 + 18) \times 4 = 288$

~~⑨~~



\$ 1399



\$ 263

爸爸買了桌子一張和椅子六張，共需付 2977 元。 $1399 + 263 \times 6 = 2977$

⑩ 藥房的貨架上有濕紙巾 88 包，每包售 22 元。

(a) 現在多放 5 打濕紙巾在貨架上，貨架上共有濕紙巾 148 包。
 $88 + 12 \times 5 = 148$


(b) 每個濕紙巾盒售 19 元。媽媽買了濕紙巾 3 包和濕紙巾盒 1 個，共需付 85 元。 $22 \times 3 + 19 = 85$

列式計算以下各題。

⑪



每件
\$ 18



每件
\$ 9

綺文買了果撻和西餅各半打，共需付多少元？

$$\begin{aligned} & (18 + 9) \times 6 \\ & = 27 \times 6 \\ & = 162 \text{ (元)} \\ & \text{共需付 } 162 \text{ 元。} \end{aligned}$$

~~⑫~~ 筆記簿每本售 28 元，相簿每本售 46 元。志豪有的款項剛好可買筆記簿 1 本和相簿 3 本，他有多少元？

$$\begin{aligned} & 28 + 46 \times 3 \\ & = 28 + 138 \\ & = 166 \text{ (元)} \\ & \text{他有 } 166 \text{ 元。} \end{aligned}$$

⑬ 把一條繩子每 180 厘米剪成一段，剪成 9 段後，餘下 4 米。這條繩子原來長多少厘米？ 4 米 = 400 厘米

$$\begin{aligned} & 180 \times 9 + 400 \\ & = 1620 + 400 \\ & = 2020 \text{ (厘米)} \\ & \text{這條繩子原來長 } 2020 \text{ 厘米。} \end{aligned}$$