

乘加混合計算

姓名：_____

班別：_____ ()

日期：_____

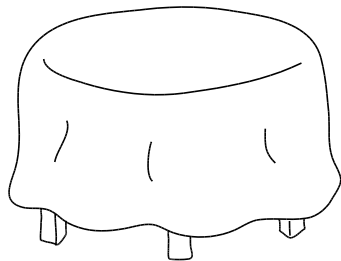
總分：_____

計算以下各題。

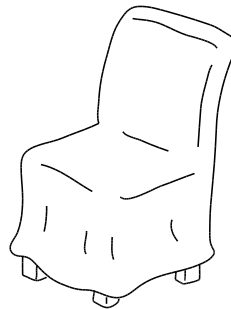
- ① $95 + 63 \times 2 =$ _____ ② $4 \times (64 + 75) =$ _____
 ③ $5 \times (46 + 227) =$ _____ ④ $7 \times 99 + 385 =$ _____
 ⑤ $(158 + 442) \times 3 =$ _____ ⑥ $(206 + 133) \times 6 =$ _____

把答案填在橫線上。

- ⑦ 哥哥的錢箱內有五元硬幣 22 個和一些紙幣，而紙幣的總幣值是 320 元。哥哥的錢箱內共有 _____ 元。
- ⑧ 一箱蘋果有 54 個，比一箱奇異果少 18 個。超級市場今天購入奇異果 4 箱，即購入奇異果 _____ 個。



\$ 1399



\$ 263

爸爸買了桌子一張和椅子六張，共需付 _____ 元。


- ⑩ 藥房的貨架上有濕紙巾 88 包，每包售 22 元。
- (a) 現在多放 5 打濕紙巾在貨架上，貨架上共有濕紙巾 _____ 包。
- (b) 每個濕紙巾盒售 19 元。媽媽買了濕紙巾 3 包和濕紙巾盒 1 個，共需付 _____ 元。

列式計算以下各題。

⑪



每件
\$ 18



每件
\$ 9

綺文買了果撻和西餅各半打，共需付多少元？

~~⑫~~ 筆記簿每本售 28 元，相簿每本售 46 元。志豪有的款項剛好可買筆記簿 1 本和相簿 3 本，他有多少元？

⑬ 把一條繩子每 180 厘米剪成一段，剪成 9 段後，餘下 4 米。這條繩子原來長多少厘米？