

2

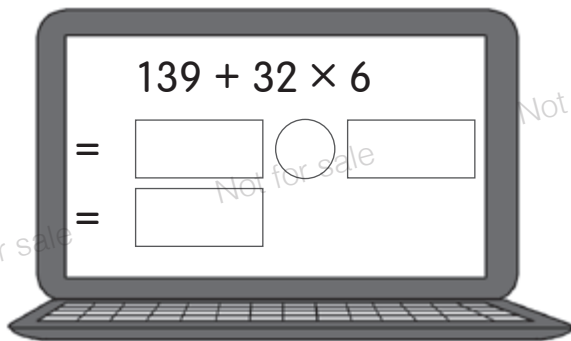
乘加混合計算

日期：_____

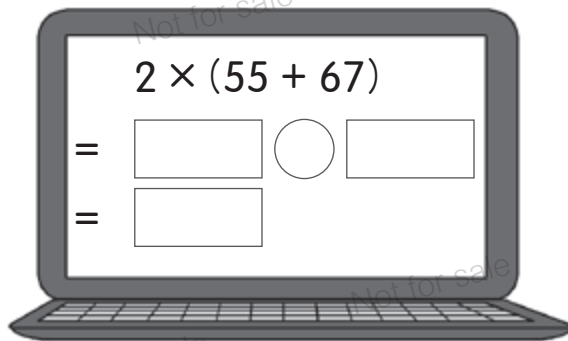
成績：_____

計算以下各題。

①



②



③ $114 \times 3 + 276 =$

④ $(73 + 28) \times 5 =$

⑤ $440 + 75 \times 8 =$

⑥ $(153 + 66) \times 6 =$

⑦ $4 \times (384 + 292) =$

⑧ $9 \times (529 + 370) =$

選出答案，並把該選項的圓圈塗黑和塗滿。



⑨ 以下哪道算式的結果與 $(18 + 66) \times 6$ 的相同？

A. $18 + 66 \times 6$

B. $6 \times 18 + 66$

C. $66 \times 6 + 18$

D. $6 \times (18 + 66)$

⑩ 以下哪道算式的結果最大？

A. $7 \times (152 + 44)$

B. $7 \times 152 + 44$

C. $7 \times 44 + 152$

D. $7 + 152 + 44$



⑪ 以下哪個數約是 $(205 + 197) \times 3$ 的結果？

A. 900

B. 1200


C. 1500

D. 1800

回答以下各題。

⑫ 老闆把一些米分成小包出售，每包重 8 公斤，分成 45 包後，餘下 4 公斤。老闆原有米 _____ 公斤。

⑬



24 元

(a) 媽媽買了車厘子 3 盒，找回 33 元。她付了 _____ 元。

(b) 水果店在過去 1 小時內售出車厘子和荔枝各 9 盒，共收得 _____ 元。

TSA ⑭ 每袋紅豆重 7 公斤，每袋綠豆重 4 公斤。八袋紅豆和一袋綠豆共重 _____ 公斤。

TSA ⑮ 一個書架有五層，最高一層高 58 厘米，其他每層高 44 厘米，這個書架高 _____ 厘米。

列一道算式計算以下各題。

⑯ 表哥昨天收到的利是比子弘多 250 元，表哥昨天收到利是多少元？

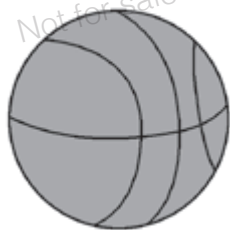
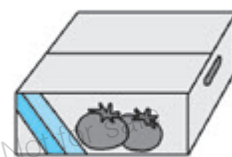


子弘

我昨天收到 9 封各是 20 元的利是。

17 媽媽買了手工紙 3 包，每包有黃色手工紙 38 張和紫色手工紙 44 張。媽媽買了手工紙多少張？

18 一箱木瓜有 18 個，一箱番茄有 36 個。超級市場今天售出木瓜 1 箱和番茄 5 箱，即共售出這兩種蔬果多少個？



買五送一

146 元



139 元

林老師買了籃球 6 個和足球 1 個，共需付多少元？
