

平行四邊形

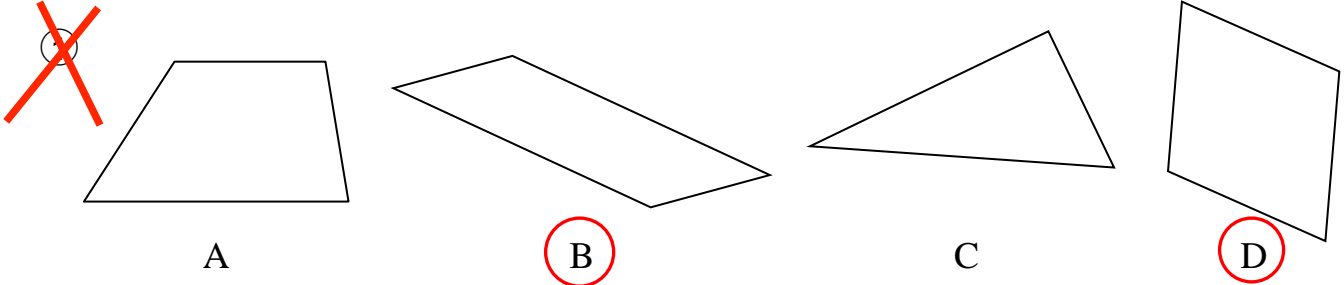
姓名：_____

班別：_____ ()

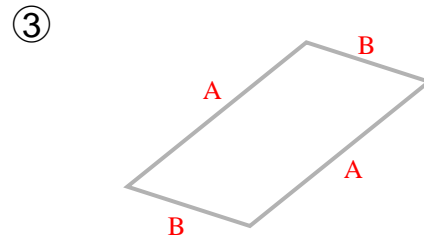
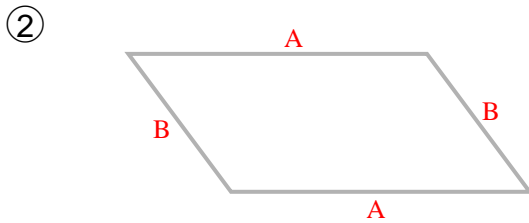
日期：_____

總分：_____

以下哪些是平行四邊形？把代表答案的英文字母圈起來。



把以下各平行四邊形中長度相等的對邊分別塗相同的顏色。

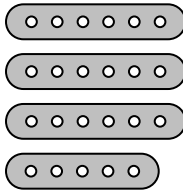


相同的英文字母塗相同的顏色。

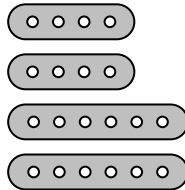
選出答案，並把該選項的圓圈塗黑和塗滿。

④ 以下哪組幾何條可以用來製作一個平行四邊形？

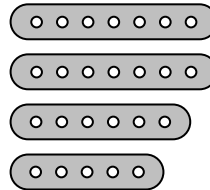
A.



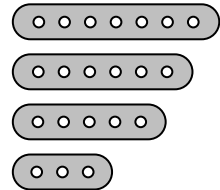
B.



C.



D.



⑤ 以下哪項不是平行四邊形的特性？

A. 有四條邊

B. 有兩組對邊

C. 兩組對邊分別互相垂直

D. 兩組對邊的長度相等

⑥

幾何條 X 

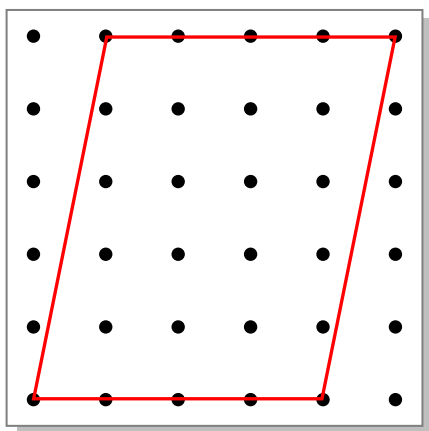
幾何條 Y 

家軒有數條幾何條 X 和幾何條 Y，他想製作一個平行四邊形，需要各幾何條多少條？

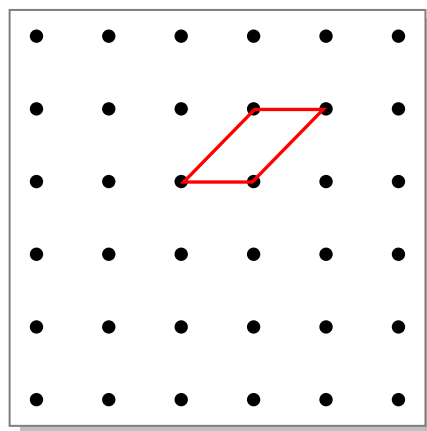
- | | <u>幾何條 X</u> | <u>幾何條 Y</u> |
|-------------------------------------|--------------|--------------|
| <input type="radio"/> A. | 0 條 | 4 條 |
| <input type="radio"/> B. | 4 條 | 0 條 |
| <input checked="" type="radio"/> C. | 2 條 | 2 條 |
| <input type="radio"/> D. | 1 條 | 3 條 |

依指示在以下各釘板上，以直線代替橡皮圈繪畫一個平行四邊形。

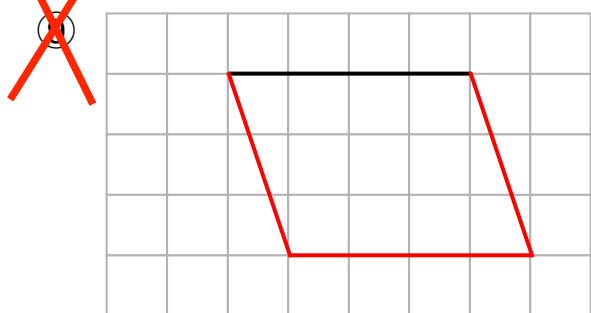
⑦ 最大的平行四邊形



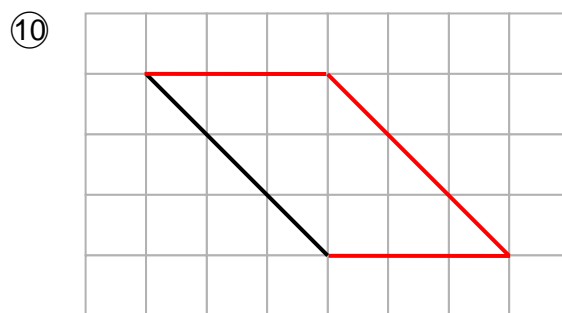
⑧ 最小的平行四邊形



在以下各方格紙上加畫直線，與黑線組成一個平行四邊形。



可有其他答案。



可有其他答案。