

18 平行四邊形



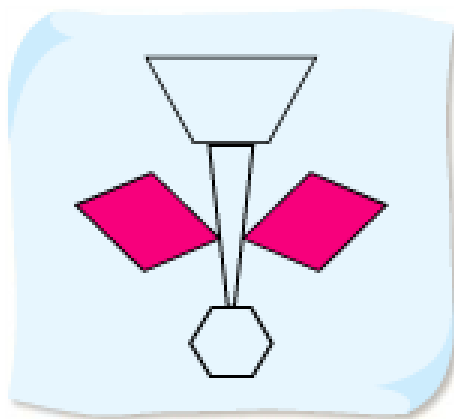
日期：_____

成績：_____

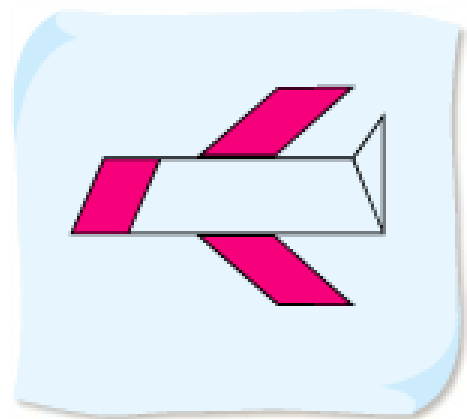
把以下各圖中的平行四邊形塗色。



①



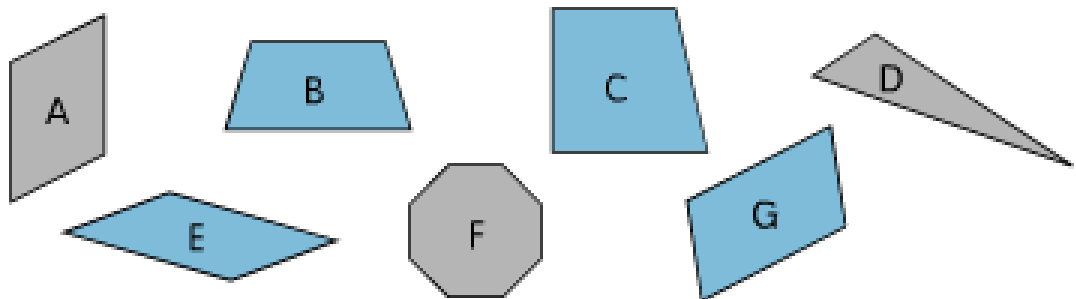
②



下面哪些是平行四邊形？寫出所有代表答案的英文字母。



③



平行四邊形： A · E · G

下面哪些句子是正確的？正確的，在圓圈內加✓，不正確的加×。



④ 平行四邊形共有四條邊。



⑤ 平行四邊形的四個角都是直角。



⑥ 平行四邊形的兩組對邊的長度分別相等。

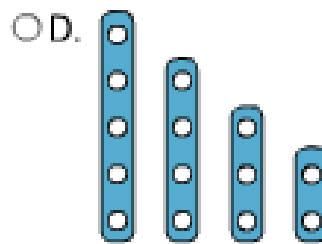
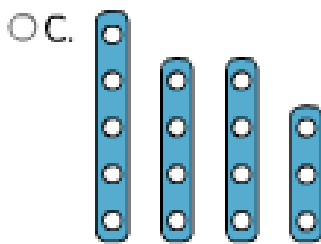
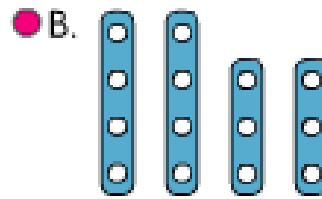
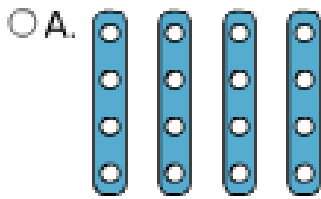


⑦ 平行四邊形的兩組對邊分別互相平行。



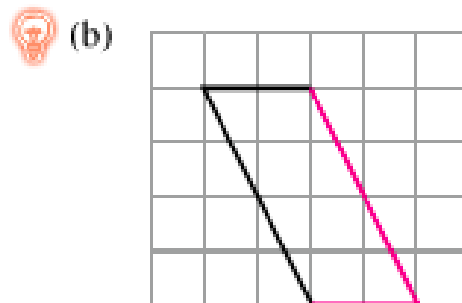
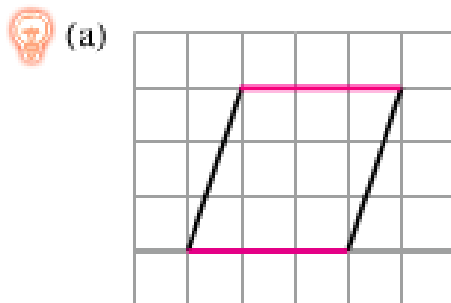
選出答案，並把該選項的圓圈塗黑和塗滿。

⑧ 以下哪組幾何條可以製作平行四邊形？

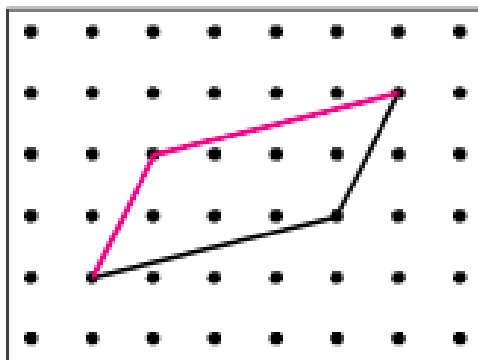


依指示繪畫線。

⑨ 在下圖加上兩條直線，與原有的兩條直線組成一個平行四邊形。



⑫ 佩兒嘗試用橡皮圈在釘板上圍出一個平行四邊形。下圖顯示其中兩條邊，畫出這個平行四邊形其餘的兩條邊。



單元練習七



日期：_____

成績：_____

觀察以下各圖，把答案圈出來（答案可多於一個）。



下圖是由 直線 / 曲線 / 平行線 / 垂直線 所組成。



下圖是由 直線 / 曲線 / 平行線 / 垂直線 所組成。




根據指示，寫出所有代表答案的英文字母。



A



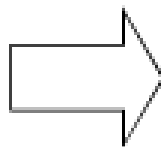
B



C



D



E



F



G

列出：

③ 有平行線的圖：B · C · D · E · G

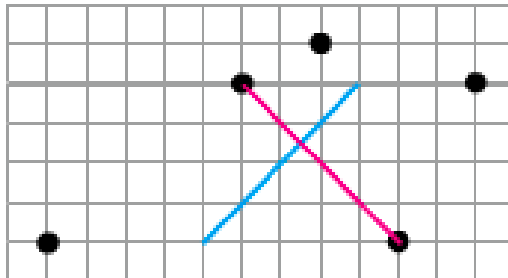
④ 有垂直線的圖：C · D · E

⑤ 平行四邊形：B · G

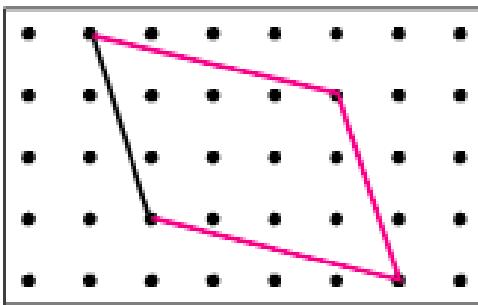


完成以下各題。

- ⑥ 在下圖的 5 點中，選取兩點連成一條直線，與藍色線互相垂直。

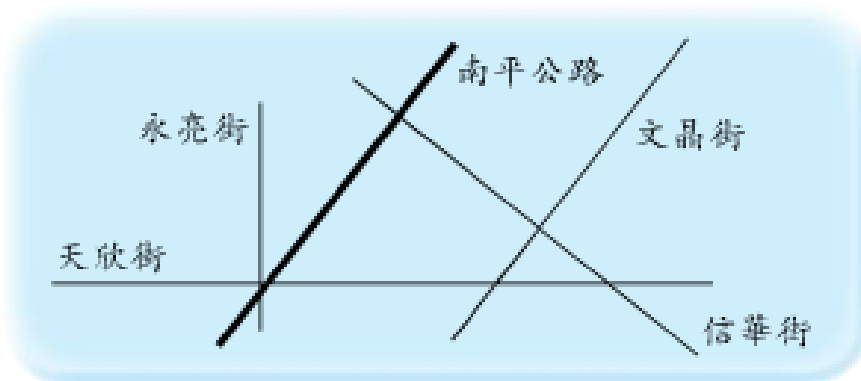


- ⑦ 泳心用橡皮圈在釘板上圍了一個平行四邊形。下圖顯示其中一條邊，畫出這個平行四邊形其餘的邊。



或其他合理答案。

⑧



在上面的地圖中，

- (a) 哪條街道與南平公路平行？
 答案： 文晶 街
- (b) 哪條街道與南平公路垂直？
 答案： 信華 街

