

平行四邊形

姓名：_____

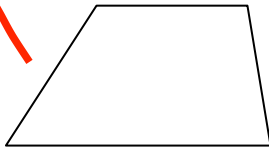
班別：_____ ()

日期：_____

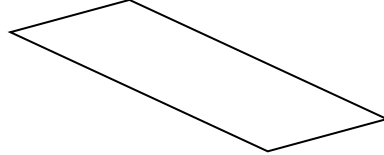
總分：_____

以下哪些是平行四邊形？把代表答案的英文字母圈起來。

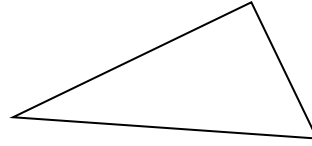
~~①~~



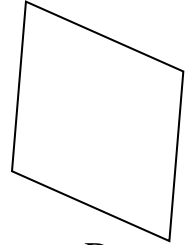
A



B



C




D

把以下各平行四邊形中長度相等的對邊分別塗相同的顏色。

②



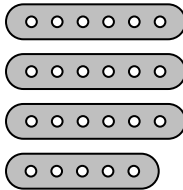
③



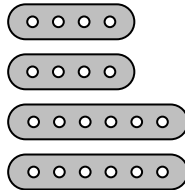
選出答案，並把該選項的圓圈塗黑和塗滿。

~~④~~ 以下哪組幾何條可以用來製作一個平行四邊形？

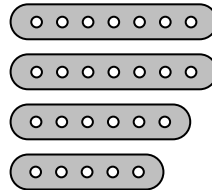
○ A.



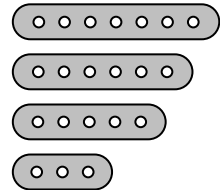
○ B.



○ C.



○ D.



~~⑤~~ 以下哪項不是平行四邊形的特性？

○ A. 有四條邊

○ B. 有兩組對邊

○ C. 兩組對邊分別互相垂直

○ D. 兩組對邊的長度相等

⑥

幾何條 X 


幾何條 Y 

家軒有數條幾何條 X 和幾何條 Y，他想製作一個平行四邊形，需要各幾何條多少條？


- | | <u>幾何條 X</u> | <u>幾何條 Y</u> |
|--------------------------|--------------|--------------|
| <input type="radio"/> A. | 0 條 | 4 條 |
| <input type="radio"/> B. | 4 條 | 0 條 |
| <input type="radio"/> C. | 2 條 | 2 條 |
| <input type="radio"/> D. | 1 條 | 3 條 |

依指示在以下各釘板上，以直線代替橡皮圈繪畫一個平行四邊形。

⑦ 最大的平行四邊形

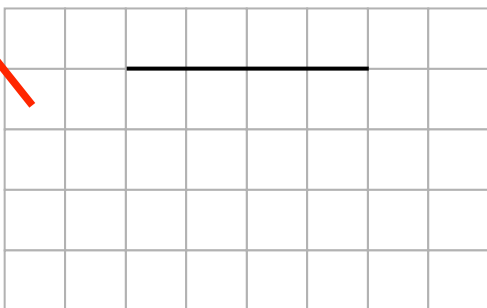


⑧ 最小的平行四邊形



在以下各方格紙上加畫直線，與黑線組成一個平行四邊形。

~~⑨~~



⑩

