

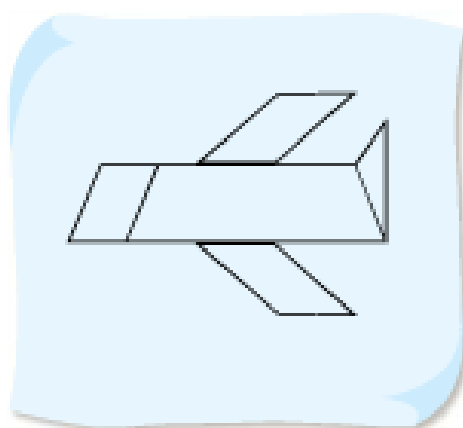
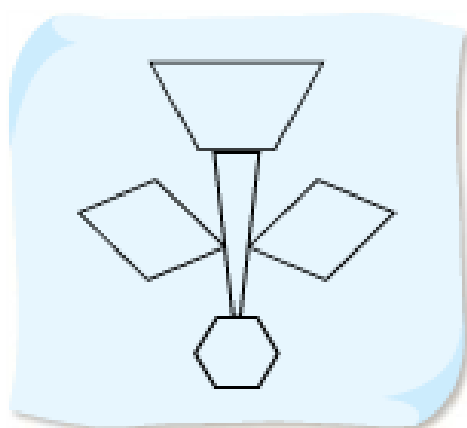


日期：_____

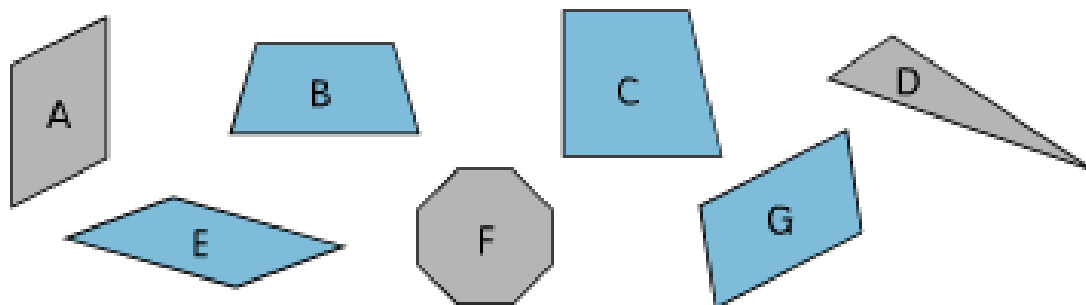
成績：_____

18 平行四邊形

把以下各圖中的平行四邊形塗色。



下面哪些是平行四邊形？寫出所有代表答案的英文字母。



平行四邊形：_____

下面哪些句子是正確的？正確的，在圓圈內加✓，不正確的加x。



① 平行四邊形共有四條邊。



⑤ 平行四邊形的四個角都是直角。



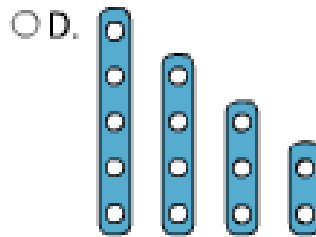
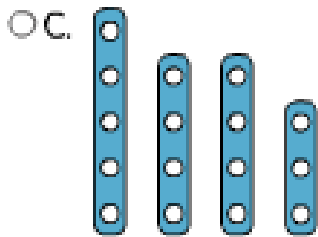
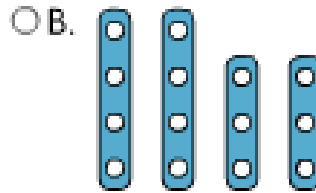
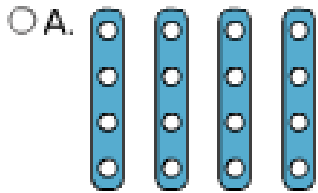
⑥ 平行四邊形的兩組對邊的長度分別相等。



⑦ 平行四邊形的兩組對邊分別互相平行。

選出答案，並把該選項的圓圈塗黑和塗滿。

⑧ 以下哪組幾何條可以製作平行四邊形？

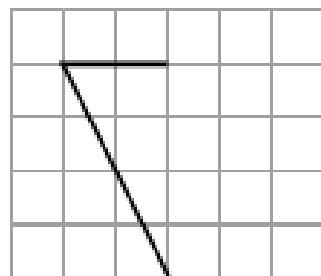


依指示繪畫線。

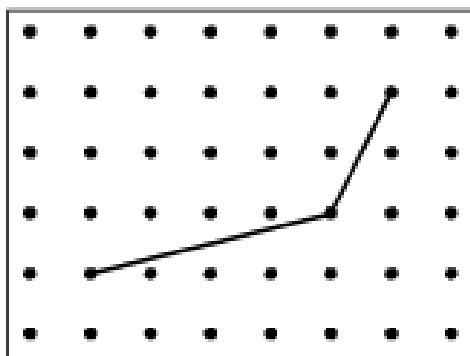
⑨ 在下圖加上兩條直線，與原有的兩條直線組成一個平行四邊形。



(b)



佩兒嘗試用橡皮圈在釘板上圍出一個平行四邊形。下圖顯示其中兩條邊，畫出這個平行四邊形其餘的兩條邊。





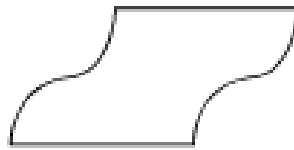
日期：_____

成績：_____

觀察以下各圖，把答案圈出來（答案可多於一個）。



① 下圖是由 **直線 / 曲線 / 平行線 / 垂直線** 所組成。



② 下圖是由 **直線 / 曲線 / 平行線 / 垂直線** 所組成。



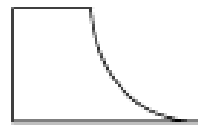
根據指示，寫出所有代表答案的英文字母。



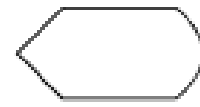
A



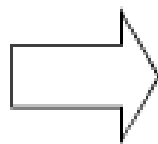
B



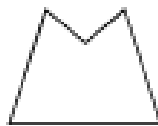
C



D



E



F



G

列出：



③ 有平行線的圖：_____



④ 有垂直線的圖：_____

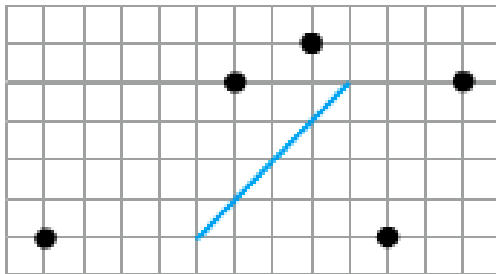


⑤ 平行四邊形：_____

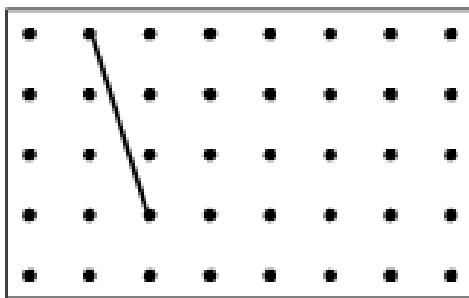


完成以下各題。

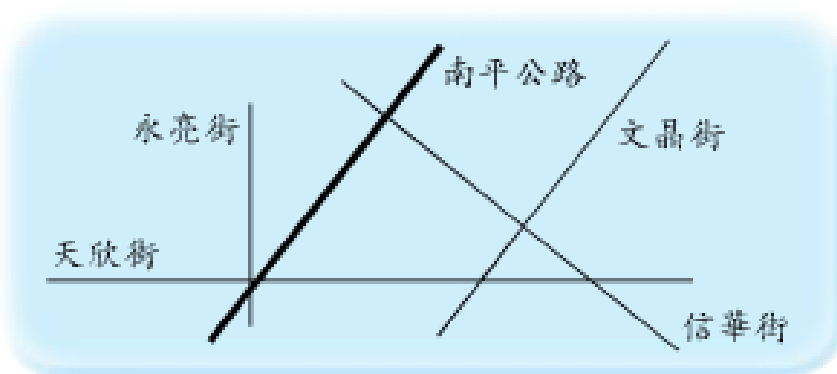
- ⑥ 在下圖的 5 點中，選取兩點連成一條直線，與藍色線互相垂直。



- ⑦ 泳心用橡皮圈在釘板上圍了一個平行四邊形。下圖顯示其中一條邊，畫出這個平行四邊形其餘的邊。



⑧



在上面的地圖中，

- (a) 哪條街道與南平公路平行？

答案：_____街

- (b) 哪條街道與南平公路垂直？

答案：_____街