



日期：_____

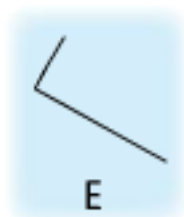
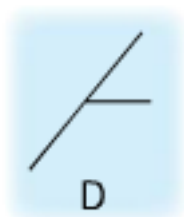
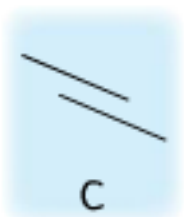
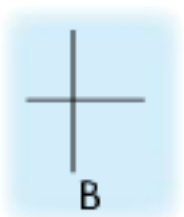
成績：_____

17 垂直線

完成以下各題。




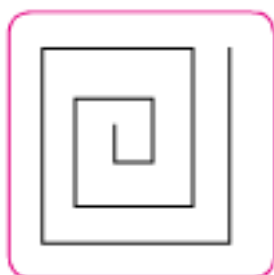
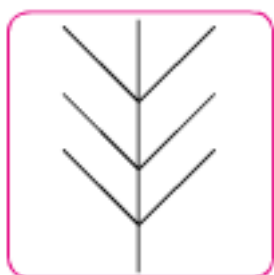
① 觀察以下各圖，寫出代表答案的英文字母。



所有由垂直線組成的圖： B · E



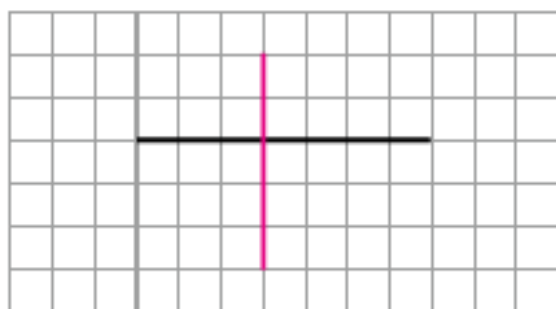
② 以下哪些圖有垂直線？把答案圈起來。



依指示繪畫線。

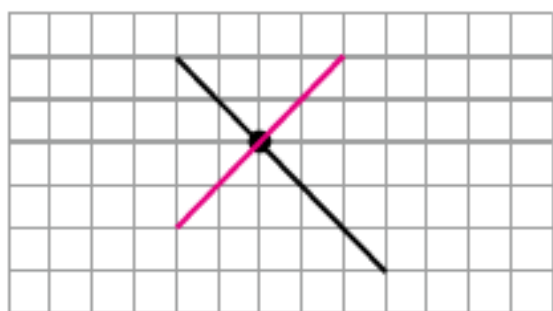


③ 圖中有一條直線，在圖上繪畫一條與它垂直的直線。

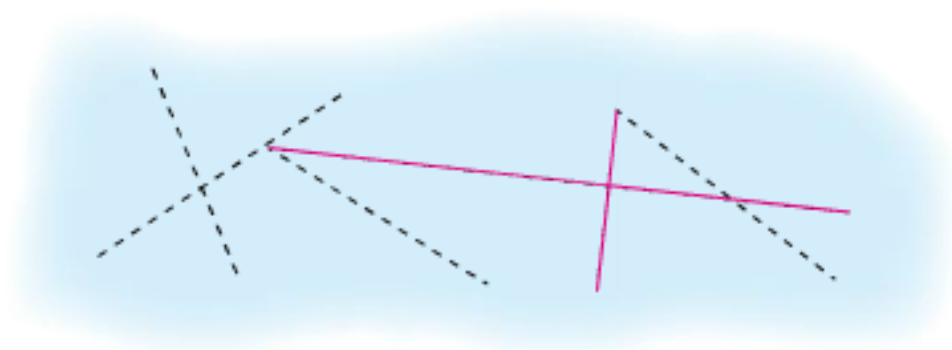


或其他合理答案。

- ④ 圖中有一條直線，在圖上繪畫一條與它垂直且穿過黑點的直線。



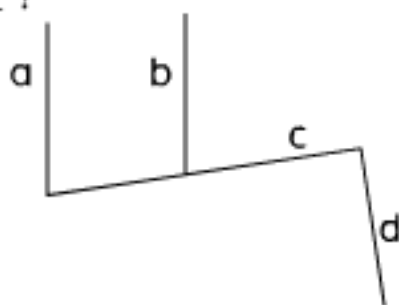
- ⑤ 沿着虛線畫出一組垂直線。



選出答案，並把該選項的圓圈塗黑和塗滿。

- ⑥ 在右圖中，哪條直線與直線 c 互相垂直？

- A. 直線 a
 B. 直線 b
 C. 直線 d
 D. 沒有直線與直線 c 互相垂直



- ⑦ 右面的時鐘有 3 枝指針，當時鐘運行到以下哪個時間，其中兩枝指針便會互相垂直？

- A. 6 時 0 分 25 秒
 B. 10 時 45 分 10 秒
 C. 12 時 0 分 15 秒
 D. 5 時 52 分 48 秒

