


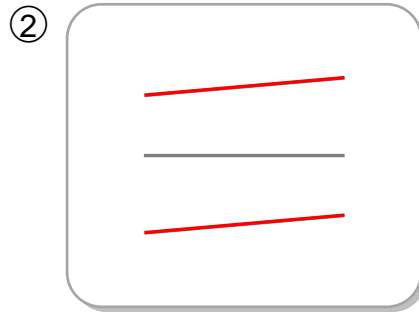
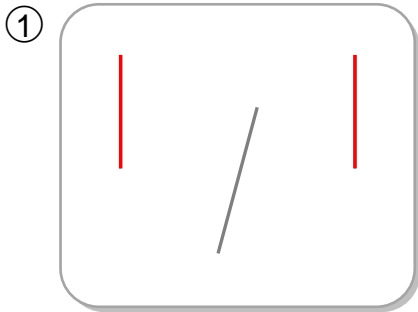
姓名：\_\_\_\_\_

班別：\_\_\_\_\_ ( )

日期：\_\_\_\_\_

總分：\_\_\_\_\_

在以下各組直線中，把互相平行的線塗色。

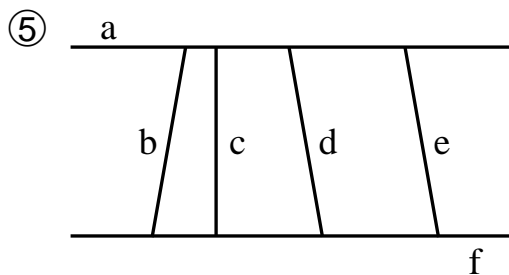


把答案填在橫線上。

④ 以下哪些英文字母有平行線？

T E K H Y X N

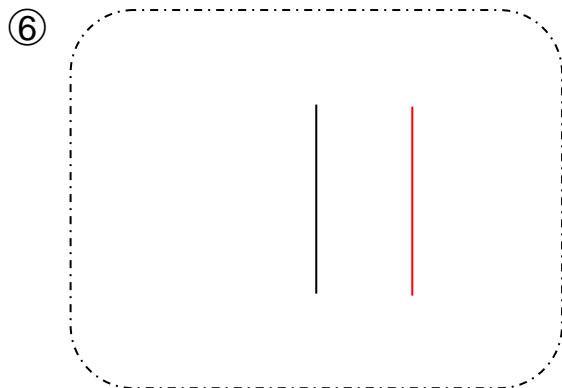
答案：\_\_\_\_\_ **E, H, N** \_\_\_\_\_



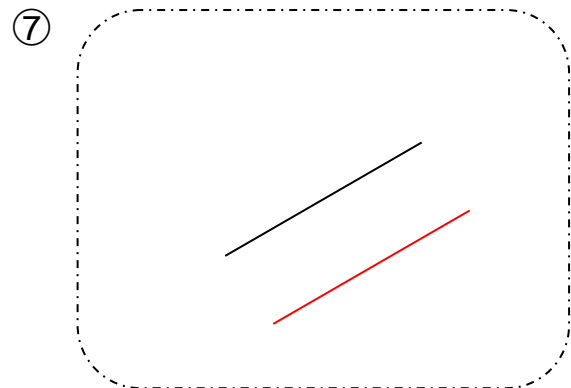
(a) 直線 **a** 和直線 f 是一組平行線。

(b) 直線 e 與直線 **d** 是互相平行的。

在以下各題中，利用直尺來協助繪畫一條與黑線互相平行的線。



可有其他答案。



可有其他答案。