

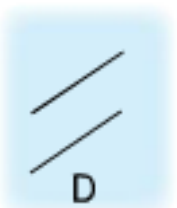
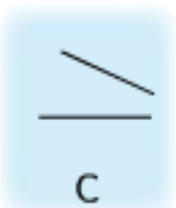
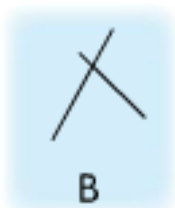
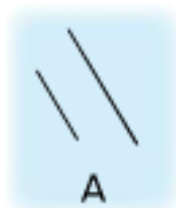
16 平行線

日期：_____

成績：_____


完成以下各題。

- ① 觀察以下各圖，寫出代表答案的英文字母。

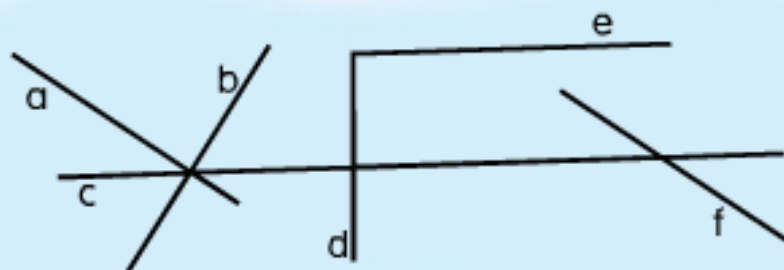


所有由平行線組成的圖： A · D · E

- ② 以下哪些中國數字有平行線？把答案圈起來。



③



- (a) 在上圖中，與直線 **a** 平行的是直線 f 。

- (b) 圖中有 2 組平行線。

④ 以下各圖形有多少組平行線？



(a)



3 組



(b)



2 組



(c)



0 組

依指示繪畫線。



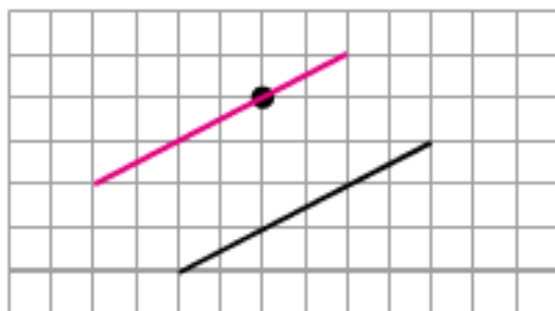
⑤ 圖中有一條直線，在圖上繪畫一條與它平行的直線。



或其他合理答案。



⑥ 圖中有一條直線，在圖上繪畫一條與它平行且穿過黑點的直線。



⑦ 沿着虛線畫出一組平行線。

