

姓名：_____

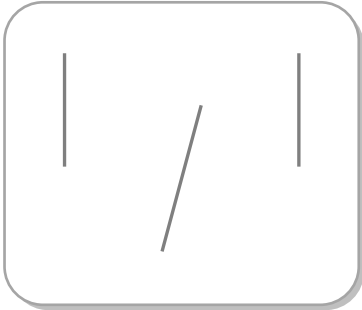
班別：_____ ()

日期：_____

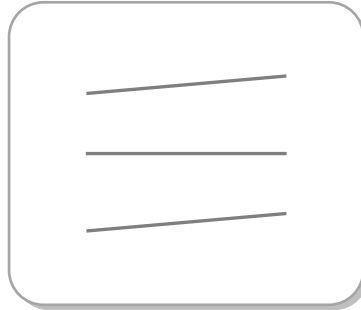
總分：_____

在以下各組直線中，把互相平行的線塗色。

①



②



③



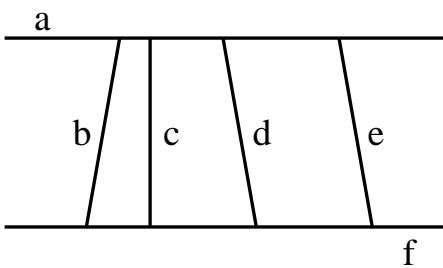
把答案填在橫線上。

④ 以下哪些英文字母有平行線？

T E K H Y X N

答案：_____

⑤




(a) 直線 _____ 和直線 f 是一組平行線。

(b) 直線 e 與直線 _____ 是互相平行的。

在以下各題中，利用直尺來協助繪畫一條與黑線互相平行的線。

⑥



⑦

