


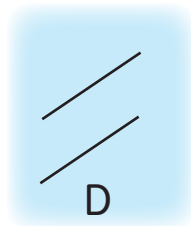

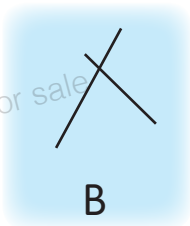
16 平行線

日期：_____

成績：_____

完成以下各題。

TSA ① 觀察以下各圖，寫出代表答案的英文字母。



所有由平行線組成的圖：_____

② 以下哪些中國數字有平行線？把答案圈起來。

一

二

三

四

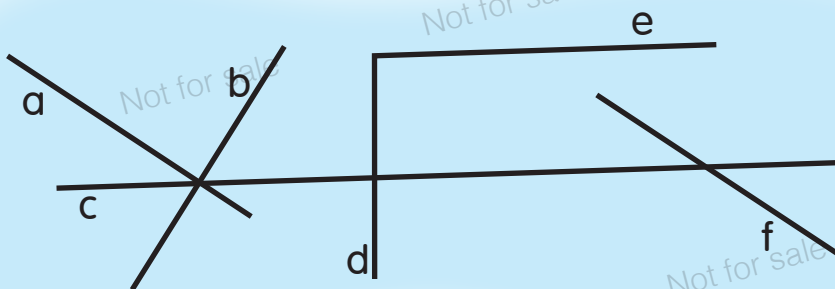
五

六

七

十

③

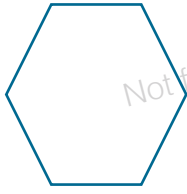


(a) 在上圖中，與直線 a 平行的是直線 _____。

(b) 圖中有 _____ 組平行線。

④ 以下各圖形有多少組平行線？

(a)



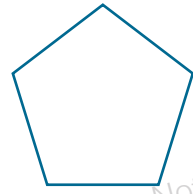
_____ 組

(b)



_____ 組

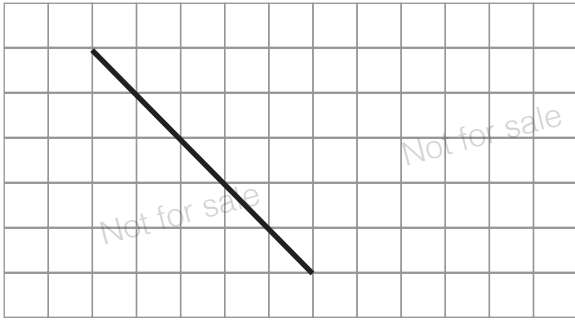
(c)



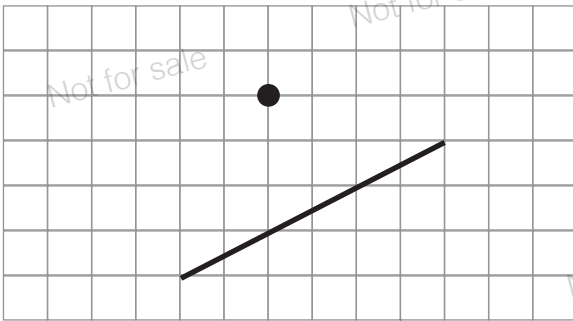
_____ 組

依指示繪畫線。

TSA ⑤ 圖中有一條直線，在圖上繪畫一條與它平行的直線。



⑥ 圖中有一條直線，在圖上繪畫一條與它平行且穿過黑點的直線。



TSA ⑦ 沿着虛線畫出一組平行線。

