




貨倉內原有新型電腦3086部，出貨1577部後，再進貨587部。貨倉內現有新型電腦多少部？



∴貨倉內現有新型電腦_____部。



貨倉內原有新型電腦3086部，出貨1577部後，再進貨587部。貨倉內現有新型電腦多少部？



$$3086 - 1577 + 587$$

$$= 1509 + 587$$

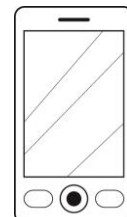
$$= 2096$$

∴ 貨倉內現有新型電腦 2096 部。


	3	0	8	6
-	1	5	7	7
<hr/>				
	1	5	0	9
+		5	8	7
<hr/>				
	2	0	9	6



哥哥有3124元，姊姊有2788元，他們合資購買智能電話一部後，還有多少元？



智能電話
\$4399

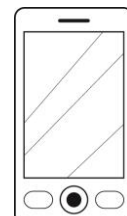


平板電腦
\$4689


∴貨倉內現有新型電腦_____部。



哥哥有3124元，姊姊有2788元，他們合資購買智能電話一部後，還有多少元？



智能電話
\$4399



平板電腦
\$4689

$$3124 + 2788 - 4399$$

$$= 5912 - 4399$$

$$= 1513$$

∴ 還有 1513 元。

	3	1	2	4
+	2	7	8	8
<hr/>				
	5	9	1	2
-	4	3	9	9
<hr/>				
	1	5	1	3




你也來試一試！



關閉




哥哥和姊姊分別有5680元和3240元，他們合資購買一部售4888元的手提電腦後，餘下多少元？



∴餘下_____元。



哥哥和姊姊分別有5680元和3240元，他們合資購買一部售4888元的手提電腦後，餘下多少元？



$$5680 + 3240 - 4888$$

$$= 8920 - 4888$$

$$= 4032$$

∴ 餘下 4032 元。

	5	6	8	0
+	3	2	4	0
<hr/>				
	8	9	2	0
-	4	8	8	8
<hr/>				
	4	0	3	2



糖果店原有果汁糖 9984 克，售出果汁糖 8623 克後，再購入果汁糖 6310 克。糖果店現有果汁糖多少克？

∴糖果店現有果汁糖_____克。



糖果店原有果汁糖 9984 克，售出果汁糖 8623 克後，再購入果汁糖 6310 克。糖果店現有果汁糖多少克？

$$9984 - 8623 + 6310$$

$$= 1361 + 6310$$

$$= 7671$$

∴糖果店現有果汁糖 7671 克。



	9	9	8	4
-	8	6	2	3
<hr/>				
	1	3	6	1
+	6	3	1	0
<hr/>				
	7	6	7	1

