


升小一預習課業 2 數學科

一、寫數字練習


請寫出數字 1-100。


1	2									
11										
										50
51										
										100




二、數數

數一數以下物件的數量，填上答案。



例子： 1 個太陽  .

1. 朵花  .

3. 朵白雲  .


2. 隻蜜蜂  .

4. 隻蝴蝶  .

5. 個熱氣球  .

三、奇數(單數)和偶數(雙數)

1. 請用每 2 個一數的方法，數一數共有菠蘿多少個？在橫線上寫上答案。

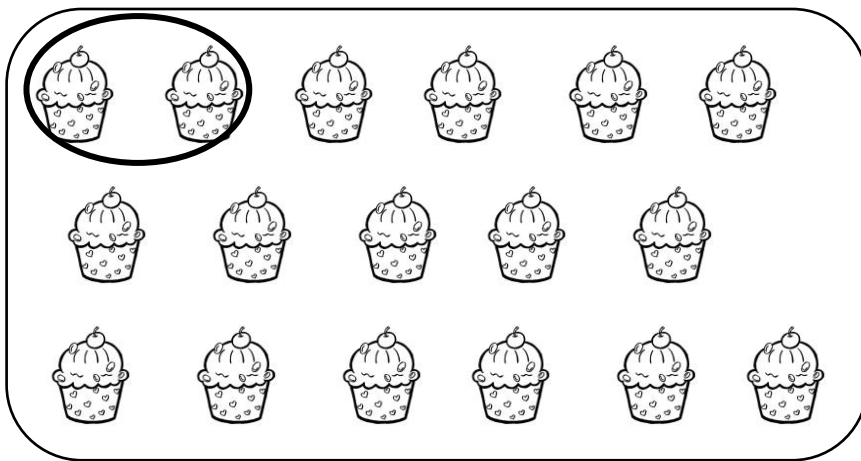


2、4、6、8、10、12、14、16、18、20 是**偶數**。因為偶數用每 2 個一數的方法，最後是沒有剩下。



把菠蘿每 2 個圈一圈，共有菠蘿_____個，(有 / 沒有) 剩下菠蘿。

2. 請用每 2 個一數的方法，數一數共有蛋糕多少個？在橫線上寫上答案。



1、3、5、7、9、11、13、15、17、19 是**奇數**。因為奇數用每 2 個一數的方法，最後剩下一個。



把蛋糕每 2 個圈一圈，共有蛋糕_____個，(有 / 沒有) 剩下蛋糕。

四、順數和倒數

1. 請依次序，把正確的數字填在 內，並圈出正確答案。

a)

1	2							9	10
---	---	--	--	--	--	--	--	---	----

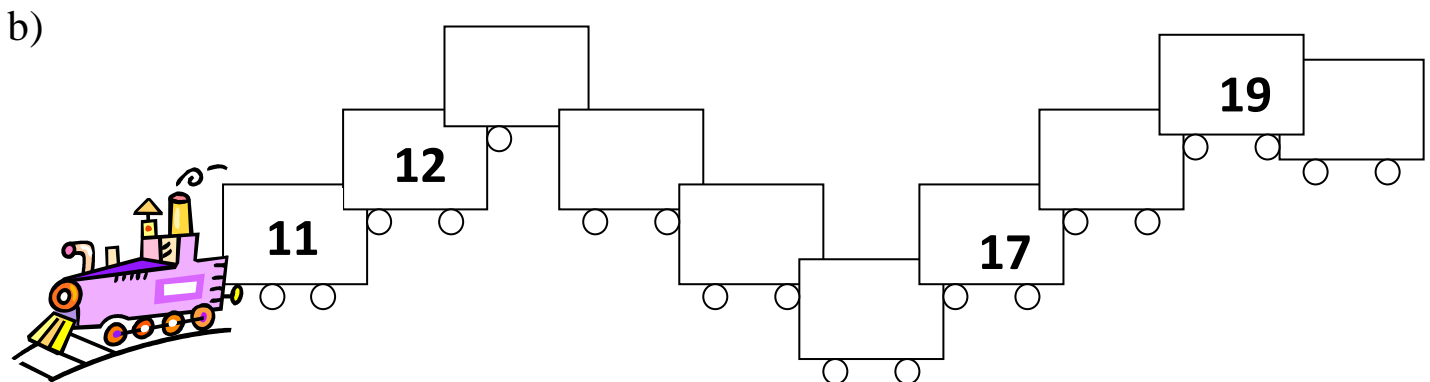
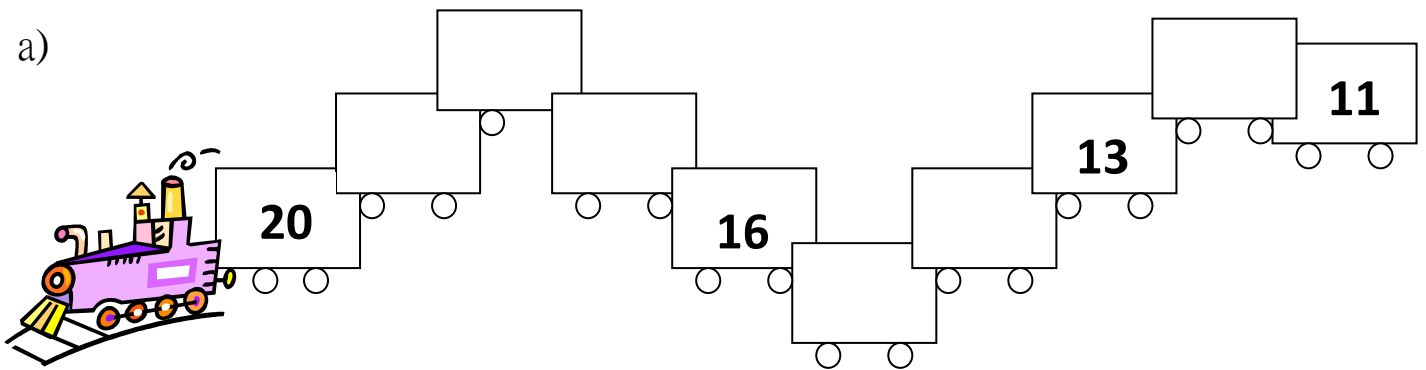
這是 (順數 / 倒數)

b)

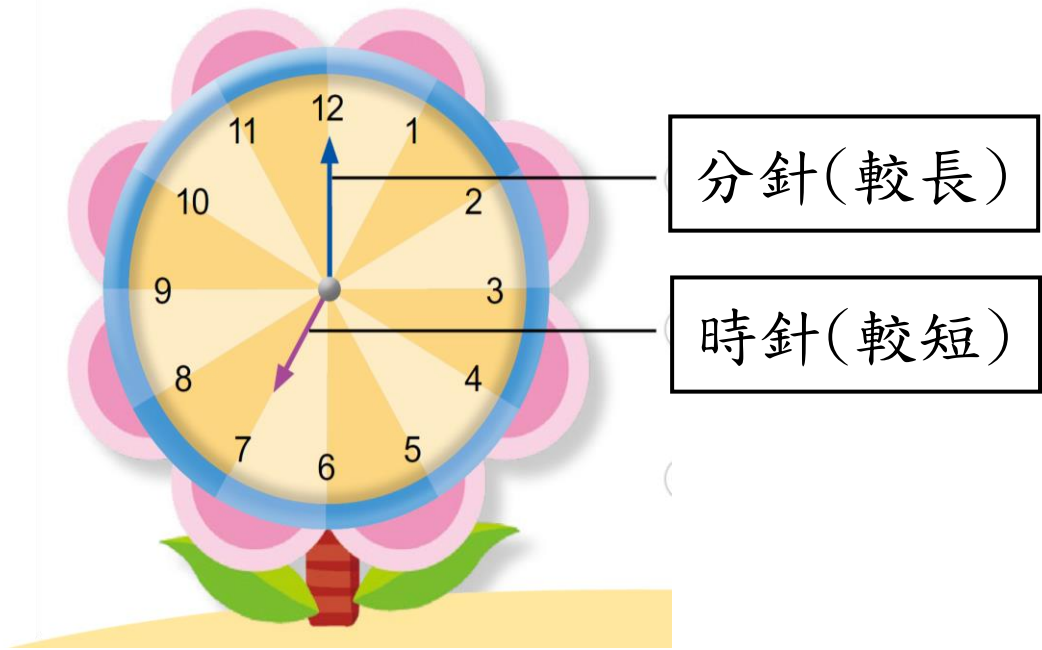
10	9								1
----	---	--	--	--	--	--	--	--	---

這是 (順數 / 倒數)

2. 請依次序，把正確的數字填在 內。



五、認識時鐘



請仔細觀察以下時鐘，並圈出正確答案。

