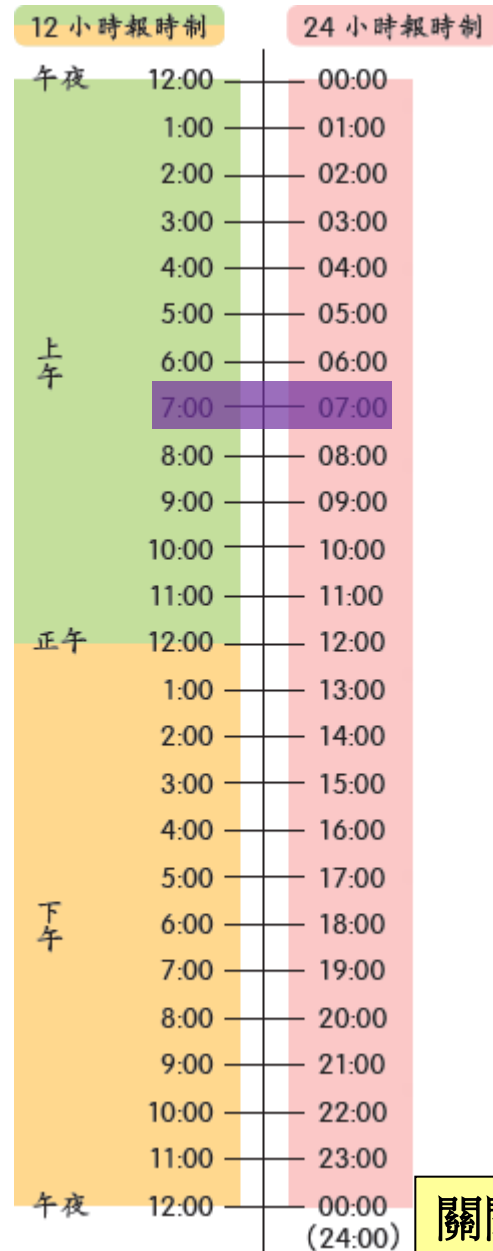


1. 看看以下數字鐘顯示的時間。



由於 07:00 表示上午 7 時，
所以 07:50 表示上午 7 時 50 分。



關閉

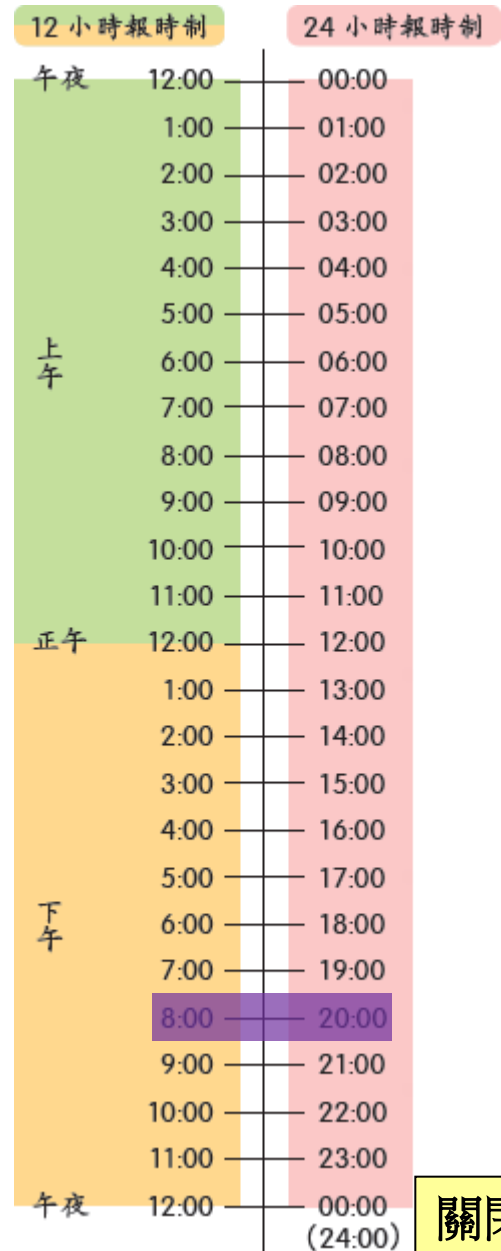


1. 看看以下數字鐘顯示的時間。



$$20 - 12 = 8$$

由於 20:00 表示下午 8 時，
所以 20:06 表示下午 8 時 6 分。





關閉



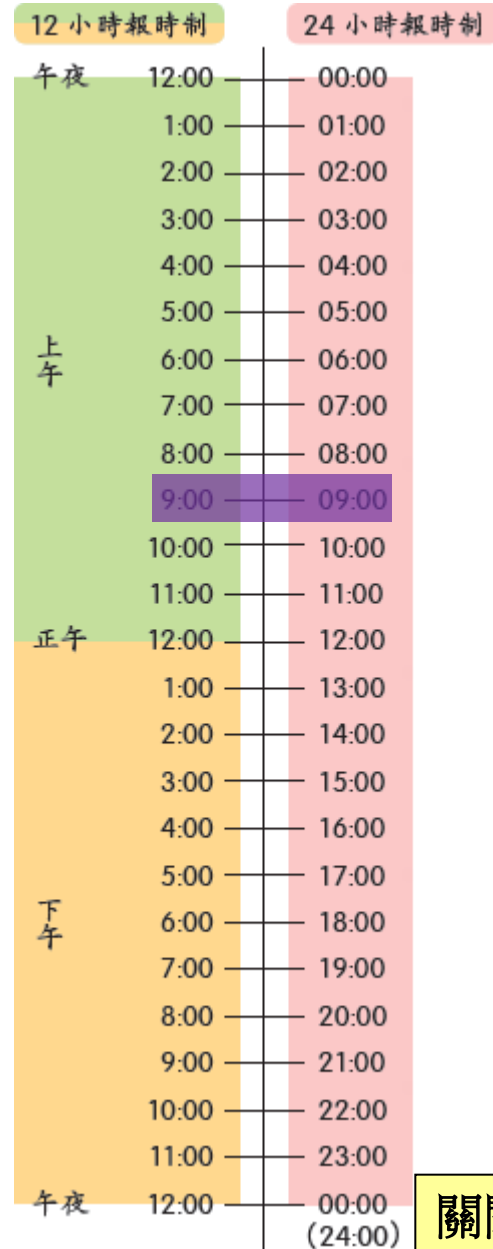
2. 用 24 小時報時制在數字鐘上寫出以下各時間。

文軒在上午 9 時 5 分吃早餐。



由於上午 9 時記作 09 : 00 ,

所以上午 9 時 5 分記作 09 : 05 。





關閉



2. 用 24 小時報時制在數字鐘上寫出以下各時間。

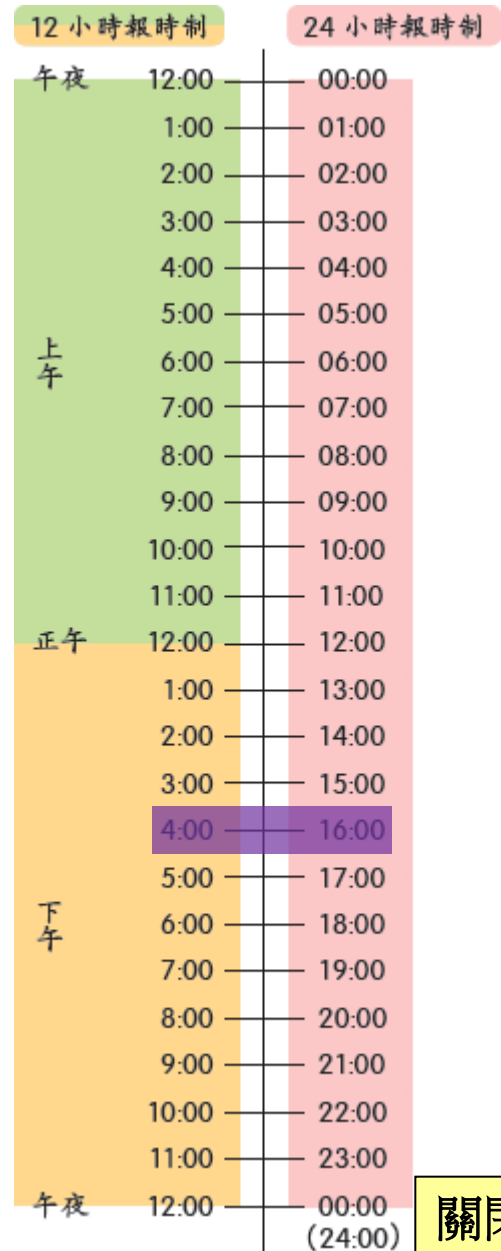
文軒在下午 4 時 28 分游泳。



$$4 + 12 = 16$$

由於下午 4 時記作 16:00，

所以下午 4 時 28 分記作 16:28。



關閉

你也來試一試！



關閉



數字鐘上的時間是以 24 小時報時制表示的。
依數字鐘顯示的時間把答案填在橫線上。

(a)



現在是_____午_____時_____分。

答案

關閉



數字鐘上的時間是以 24 小時報時制表示的。
依數字鐘顯示的時間把答案填在橫線上。

(a)



現在是 上 午 10 時 23 分。

下一題

關閉



數字鐘上的時間是以 24 小時報時制表示的。
依數字鐘顯示的時間把答案填在橫線上。

(b)



現在是_____午_____時_____分。

答案

關閉



數字鐘上的時間是以 24 小時報時制表示的。
依數字鐘顯示的時間把答案填在橫線上。

(b)



現在是 上 午 12 時 56 分。

下一題

關閉



數字鐘上的時間是以 24 小時報時制表示的。
依數字鐘顯示的時間把答案填在橫線上。

(c)



現在是_____午_____時_____分。

答案

關閉



數字鐘上的時間是以 24 小時報時制表示的。
依數字鐘顯示的時間把答案填在橫線上。

(c)



$$23 - 12 = 11$$

現在是 下 午 11 時 9 分。


下一題

關閉



用 24 小時報時制在數字鐘上寫出以下各時間。

(d) 上午 5 時 4 分。




答案

關閉



用 24 小時報時制在數字鐘上寫出以下各時間。

(d) 上午 5 時 4 分。




下一題

關閉



用 24 小時報時制在數字鐘上寫出以下各時間。

(e) 下午 6 時 39 分。



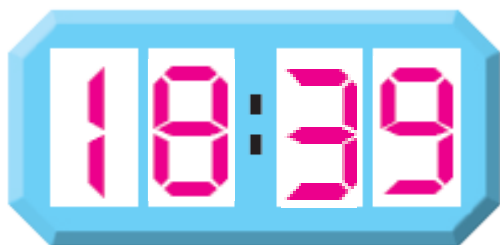
答案

關閉



用 24 小時報時制在數字鐘上寫出以下各時間。

(e) 下午 6 時 39 分。




下一題

關閉



用 24 小時報時制在數字鐘上寫出以下各時間。

(f) 下午 11 時 6 分。



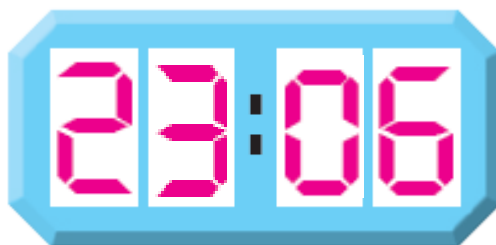
答案

關閉



用 24 小時報時制在數字鐘上寫出以下各時間。

(f) 下午 11 時 6 分。



完

關閉

