

## maths - 3 下 A 單元 2 第 6 課功課 1\_24 小時報時制

學生可在數學筆記簿列式計算，待日後課堂上與老師共同訂正。

功課名稱： maths - 3下A單元2第6課功課1\_24 小時報時制

最終總分： 4

題目： 1/4

1

活動開始



活動結束



活動用了  小時  分鐘。

功課名稱： maths - 3下A單元2第6課功課1\_24 小時報時制

最終總分： 4

題目： 2/4

2

活動開始



活動結束



活動用了  小時  分鐘。

功課名稱： maths - 3下A單元2第6課功課1\_24 小時報時制

最終總分： 4

題目： 3/4

3

卓明和家人乘搭飛機從香港往首爾，起飛時間是 14 : 55，抵達時間是 19 : 06。  
從香港飛往首爾的航程長  小時  分鐘。

功課名稱： maths - 3下A單元2第6課功課1\_24 小時報時制

最終總分： 4

題目： 4/4

4

音樂會在 18 : 50 開始，全長 2 小時 35 分鐘。  
音樂會在  :  結束。（用 24 小時報時制表示）


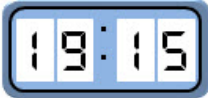

## maths - 3 下 A 單元 2 第 5 課功課 2\_24 小時報時制

功課名稱： maths - 3下A單元2第5課功課2\_24 小時報時制

最終總分： 4

題目： 1/4

1 下面哪個數字鐘表示「上午 9 時 15 分」？




- 
- 
- 

功課名稱： maths - 3下A單元2第5課功課2\_24 小時報時制

最終總分： 4

題目： 2/4

2 下面哪個數字鐘表示「下午 4 時 20 分」？

- 
- 
- 

功課名稱： maths - 3下A單元2第5課功課2\_24 小時報時制

最終總分： 4

題目： 3/4

3



上面的數字鐘表示

- 上午 12 時 50 分。
- 下午 12 時 50 分。

功課名稱： **maths - 3下A單元2第5課功課2\_24 小時報時制**

最終總分： 4

題目： 4/4

4



上面的數字鐘表示

- 上午 7 時 45 分。
- 下午 5 時 45 分。
- 下午 7 時 45 分。

**maths - 3 下 A 單元 2 第 5 課功課 3\_24 小時報時制**

功課名稱： **maths - 3下A單元2第5課功課3\_24 小時報時制**

最終總分： 4

題目： 1/4

1

用 12 小時報時制表示「08 : 39」。

- 上午 8 時 39 分
- 下午 8 時 39 分

功課名稱： **maths - 3下A單元2第5課功課3\_24 小時報時制**

最終總分： 4

題目： 2/4

2

用 12 小時報時制表示「19 : 46」。

- 上午 7 時 46 分
- 上午 9 時 46 分
- 下午 7 時 46 分
- 下午 9 時 46 分

功課名稱： **maths - 3下A單元2第5課功課3\_24 小時報時制**

最終總分： 4

題目： 3/4

3

用 24 小時報時制表示「上午 6 時 38 分」。

答案：  :

功課名稱： **maths - 3下A單元2第5課功課3\_24 小時報時制**

最終總分： 4

題目： 4/4

4

用 24 小時報時制表示「下午 11 時 3 分」。

答案：  :